



ERRATA

Judul : Fokus Strategi Sains (KSSR Semakan) Tahun 5/


焦点攻略 科学 5 年级

Kod Buku : TACFSN2605040T

Penulis : 刘智升、方展峰、陈玲玲、吴艳虹、许志睿

页数	内容	改正
xv	UASA BAHAGIAN C 作答技巧	- 更正图片 <p>4. 下图显示暮羽在某个月里好几个夜晚看到的月亮变化。</p>  <p>4. 下图显示暮羽在某个月里好几个夜晚看到的月亮变化。</p> 

4. 下图显示暮羽在某个月里好几个夜晚看到的月亮变化。



(a) 写出月相 P 和 Q 的名称。

(i) 月相 P: 娥眉月

(ii) 月相 R: 凸月

注: - 须正确地写出月相名称, 一个分题占 1 分。

[2 分]

(b) 根据上图, 写出以下所表示的是哪两个月相之间的变化阶段。

(i) 月球明亮部分从 50% 到 100%: Q → S

(ii) 月球明亮部分从 75% 到 50%: T → U

注: - 根据上图, 把代表月相的字母填在横线上。

[2 分]

(c) 暮羽想在满月时把月亮拍下。他应该在哪天记录?

农历初一

农历初八

农历十五

作出解释:

月亮在农历十五至十六时是满月, 而初一是新月, 初八是上弦月。

注: - 正确的选择, 得 1 分。

- 正确的解释, 得 1 分。

- 如果写出: “只有在农历十五才看得到满月, 其他天(初一和初八)将看不到满月”, 也可得 1 分。

[2 分]