

ERRATA

Title : 全方位系列 (3.0) 历史 5B

Book Code : TACPSJ2505048TB

Author : ❶ 路易斯

❷ 练俊纬

Page Number	Unit	Error	Correction
(MB) P13	9	NA	提供清晰版的页面供读者 下载。
(MB) N-16	12		
(BK) P1	7		
(BK) P3	7		
(BK) P5	7		
(BK) P10	8		
(BK) P12	9		



单元 9

马来西亚的国旗

练习 20 国旗的历史

课本: 第 122~123 页

A 以下是国旗的历史, 把正确的答案圈起来。 9.2.1 TP 2

① (1947 ★ 1948) 年, 马来亚联合邦的特别委员会举办 ② (联合邦 ★ 马来西亚) 旗的设计比赛。1949 年, 通过 ③ (马来邮报 ★ 国民邮报) 公布三份设计作品进入决赛。



来自 ④ (柔佛 ★ 沙巴) 的绘测师 —— ⑤ (莫哈末韩查 ★ 马末阿都拉) 获得了最佳 ⑥ (颜色 ★ 设计) 作品。这名作品设计人于 1918 年 3 月 5 日在 ⑦ (新加坡 ★ 马来西亚) 出生。他曾在新山的英文书院接受教育。

他在 1993 年 2 月 19 日逝世。


他的设计采用了 ⑧ (11 ★ 14) 道蓝白相间的条纹和

⑨ (5 ★ 6) 角星。



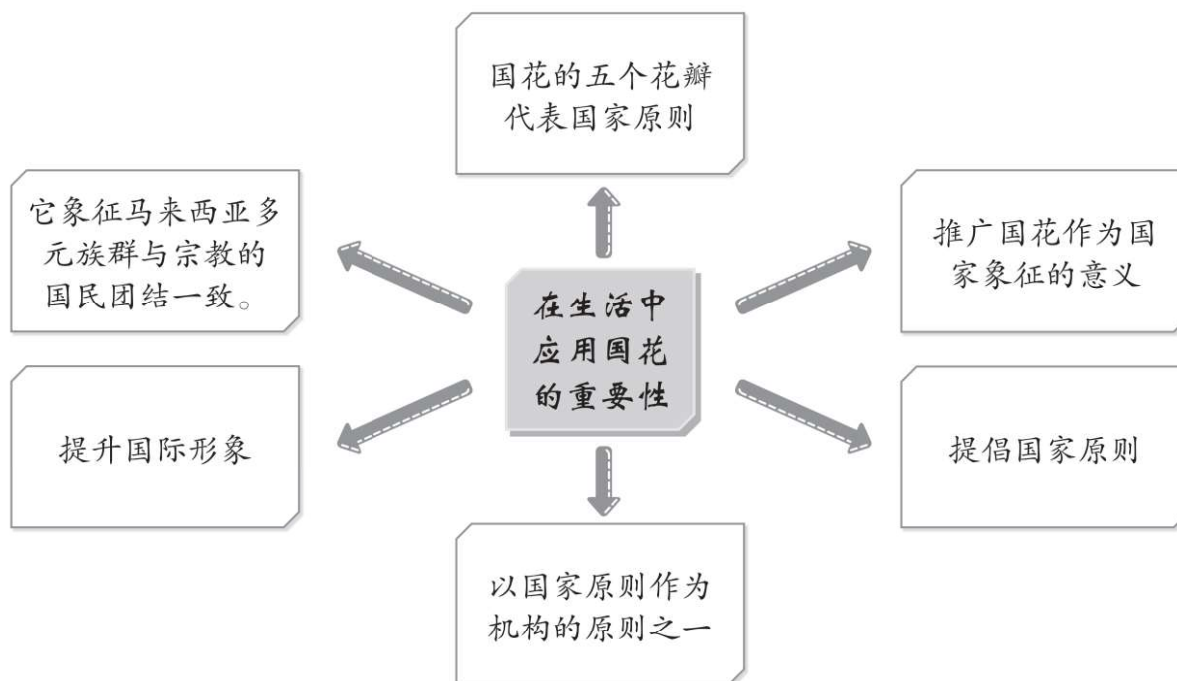
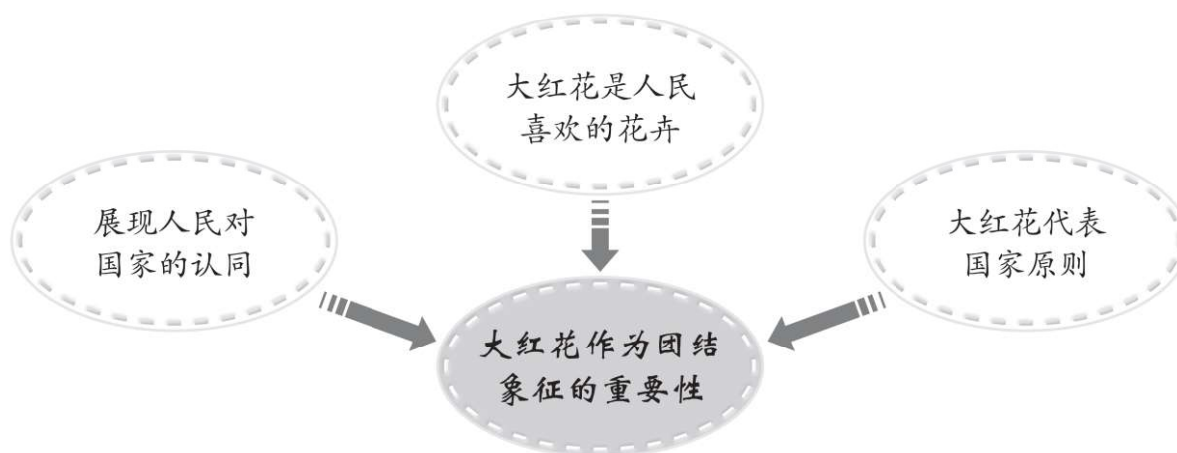
莫哈末韩查的设计作品进行了一些修改。原有的设计被修改成了 11 道 ⑩ (红白 ★ 蓝白) 相间的条纹。

⑪ (1949 ★ 1950) 年 4 月, 联合邦立法议会通过马来亚联合邦旗的设计。马来亚联合邦旗有 11 道红白条纹和 ⑫ (10 ★ 11) 角星。



1950 年 5 月 26 日, 马来亚联合邦旗在 ⑬ (雪兰莪 ★ 吉兰丹) 苏丹皇宫庭院首次升起。

1963 年 9 月 16 日, 国旗条纹增加至 ⑭ (13 ★ 14) 道, 11 角星也改成 ⑮ (12 ★ 14) 角星。



单元 7：国家元首是国家主权的核心

评估 1 国家首脑

课本：第 92 ~ 93 页

A 圈出正确的答案。 8.1.1 TP 1



- X 代表什么？

A 总统	B 元首后
C 首相	D 国家元首
- 国家元首的推举是依据什么进行的？

A 《联邦宪法》
B 《马六甲法典》
C 《1874 年邦咯条约》
D 《1909 年曼谷条约》
- 国家元首任期为几年？

A 五年	B 六年
C 七年	D 八年
- 国家元首是轮任制的，这是马来西亚什么制度的体现？

A 自由
B 独裁
C 政党政治
D 君主立宪

单元 7：国家元首是国家主权的核心

评估 4 国家元首的登基程序

课本：第 95 页

D 以下是新任国家元首登基的程序，按照 1 - 5 顺序排列。

8.1.3

K8.1.8

TP 4

TP 6

○

国家元首在马来统治者理事会会议中宣誓即位，并在国家皇宫举行登基仪式。



○

登基仪式中，首相在国家元首面前宣读国家元首委任状（Watikah）。



○

国家元首签署由掌玺大臣呈上的即位宣誓书。



○

国家元首宣誓将会公正无私地执行统治任务。



○

国家元首亲吻马来短剑，象征出任国家首脑。



姓名：_____ 班级：_____ 日期：_____

单元 7：国家元首是国家主权的核⻝

评估 6 国家元首的御用器物

课本：第 98 ~ 101 页

F 写出国家元首和国家元首后皇家服饰的名称。 8.1.5 TP 3

皇家礼服

皇冠

皇家长剑

皇家腰饰

皇家颈饰

元首后后冠

1

2

3

4

5

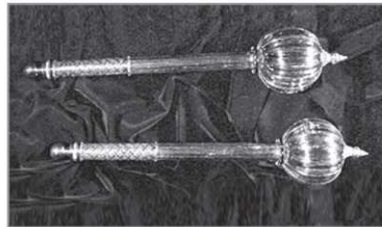
6



评估 7 国家元首的御用器物

课本：第 98 ~ 101 页


G 看图写出御用器物的名称。 8.1.5 TP 3



1. _____

2. _____

3. _____



4. _____

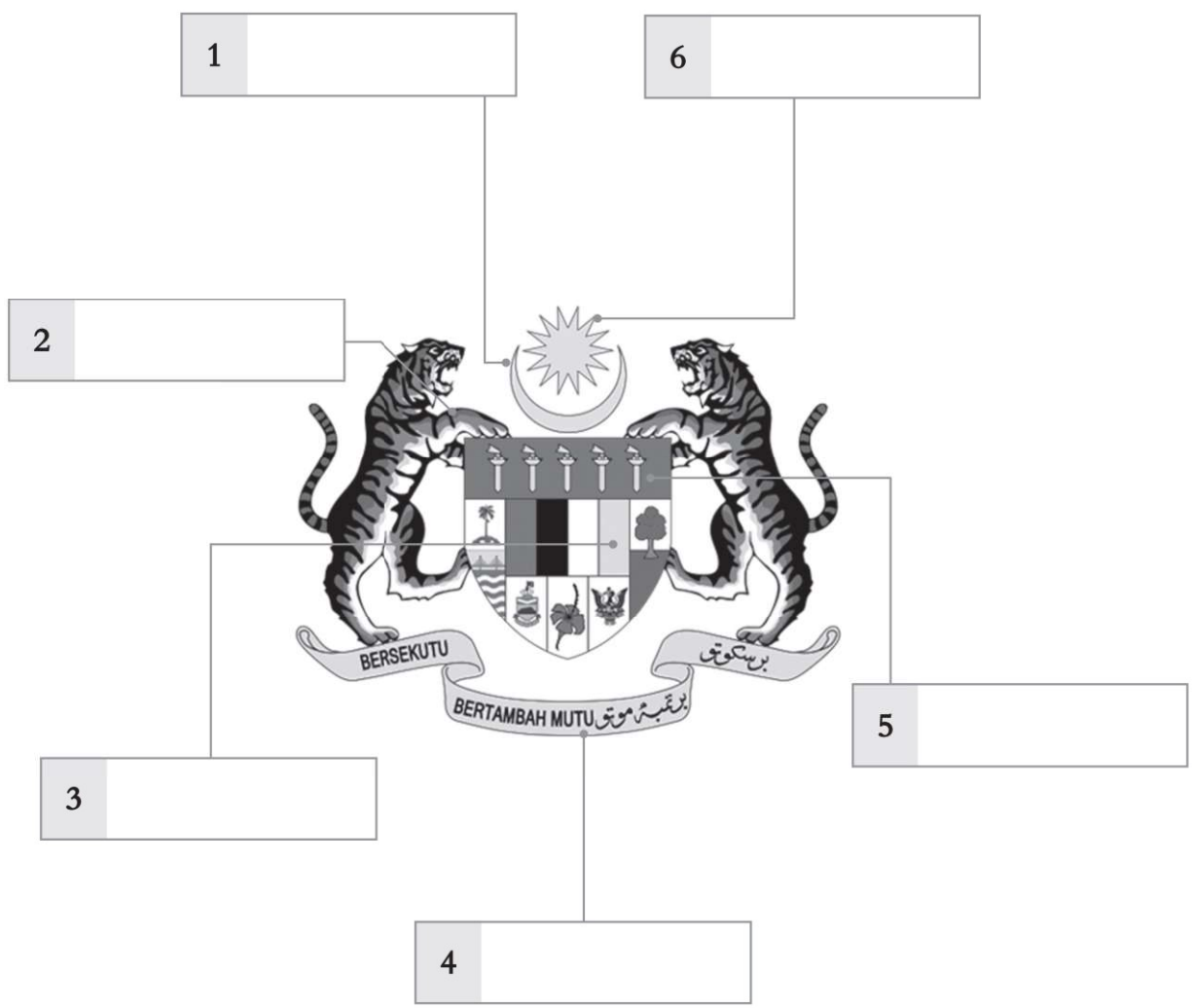
5. _____

6. _____

单元 8：马来西亚的国徽

评估 13 国徽上的标志与含义 课本：第 114 ~ 115 页

E 填写国徽上的标志。 9.1.2 TP 4




- | | | |
|----|------|--------|
| 新月 | 国家格言 | 14 角星 |
| 老虎 | 四色条纹 | 五把马来短剑 |

单元 9：马来西亚的国旗

评估 15 国旗的历史

课本：第 122 ~ 123 页

A 圈出正确的答案。 9.2.1 TP1 TP2



1. 上图显示我国的其中一种标志。这是什么标志？
A 国歌
B 国徽
C 国旗
D 国花
2. 我国国旗设计比赛始于哪一年？
A 1948 年
B 1950 年
C 1957 年
D 1963 年
3. 谁设计马来西亚联合邦旗？
A 敦阿都拉萨
B 莫哈末韩查
C 东姑阿都拉曼
D 敦马哈迪医生
4. 莫哈末韩查的设计作品获选为国旗，因为他的设计包含了哪些元素？
I 皇室
II 勇敢
III 团结
IV 伊斯兰教
A I、II 和 III
B I、II 和 IV
C I、III 和 IV
D I、II、III 和 IV



5. 上图中的国旗设计于 _____，它的名称是 _____。
A 1948 年、马来西亚国旗
B 1948 年、马来亚联合邦旗
C 1950 年、马来西亚国旗
D 1950 年、马来亚联合邦旗