




ERRATA

Title : 全方位系列 3.0 历史 6B

Bookcode : TACPSJ2506048TB

Author : 李佳静

Page Number	Unit	Error	Correction
BK P26	单元 10	NA	<p>提供清晰版的页面供读者下载。</p>  <p>姓名: _____ 班级: _____ 日期: _____</p> <p>单元 10: 马来西亚的国际关系</p> <p>评估 27 马来西亚与东南亚国家联盟、共和联邦、伊斯兰合作组织、联合国 课本: 第 164 ~ 173 页</p> <p>D 看图回答问题。 K12.A.1 K12.A.7 K12.A.8 TP 4 TP 5 TP 6</p> <p>A  B </p> <p>1. 根据上图中的组织标志, 写出组织的名称。</p> <p>A: _____ B: _____</p> <p>2. 各写出我国在以上两个组织中的一个贡献。</p> <p>A: _____</p> <p>B: _____</p> <p>3. 写出我国与他国维持良好关系并获得国际认可的两个重要性。</p> <p>_____</p> <p>_____</p> <p>_____</p> <p>4. 我国应该如何巩固和世界各地的关系?</p> <p>_____</p> <p>_____</p> <p>_____</p> <p>26</p> <p>单元 10 批阅: _____</p>


单元 10: 马来西亚的国际关系

评估 27

马来西亚与东南亚国家联盟、共和联邦、
伊斯兰合作组织、联合国

课本: 第 164 ~ 173 页

D 看图回答问题。 K12.A.1 K12.A.7 K12.A.8 TP.4 TP.5 TP.6



1. 根据上图中的组织标志, 写出组织的名称。

A: _____ **B:** _____

2. 各写出我国在以上两个组织中的一个贡献。

A: _____

B: _____

3. 写出我国与他国维持良好关系并获得国际认可的两个重要性。

4. 我国应该如何巩固和世界各国的关系?


单元 10：马来西亚的国际关系

评估 27

马来西亚与东南亚国家联盟、共和联邦、伊斯兰合作组织、联合国

课本：第 164 ~ 173 页

D 看图回答问题。 I2.4.1 KI2.4.7 KI2.4.8 TP4 TP5 TP6



1. 根据上图中的组织标志，写出组织的名称。

A: _____ B: _____

2. 各写出我国在以上两个组织中的一个贡献。

A: _____

B: _____

3. 写出我国与他国维持良好关系并获得国际认可的两个重要性。

4. 我国应该如何巩固和世界各国的关系？
