


BANK SOALAN KBAT

(Unit 2 - Unit 4)

1. Rajah di bawah menunjukkan suatu kelas makanan.

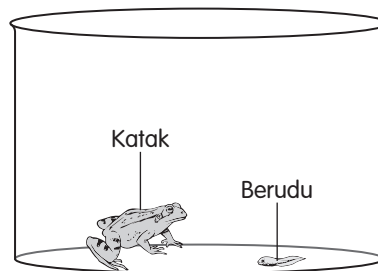



Bagaimanakah makanan di atas dapat membantu manusia dalam proses penyahingjaan manusia?  **KBAT** Menganalisis

2. Rajah di sebelah menunjukkan seekor katak dan seekor berudu diletakkan di dalam bikar.

(a) Ramalkan apakah yang berlaku kepada haiwan di dalam bikar itu.  **KBAT** Menganalisis

(b) Berikan inferens bagi jawapan kamu di (b).  **KBAT** Menilai



3. Rajah di bawah menunjukkan sejenis pokok yang diletakkan di atas meja di dalam sebuah bilik tidur. Pokok itu kelihatan layu dan berdaun kuning selepas tiga hari. Berikan satu cadangan untuk memulihkan keadaan pokok itu.  **KBAT** Menganalisis

