

» **BANK**  »
SOALAN
UASA
SEJARAH

Tingkatan

1

KSSM

Bahagian **A**

Bab 1 Mengenali Sejarah

1. Apakah pengertian sejarah mengikut pandangan sejarawan berikut?



- I Peradaban dunia
 - II Perubahan masyarakat
 - III Pengkajian rekod masa lalu
 - IV Persoalan tentang kehidupan
- A** I dan II
B I dan IV
C II dan III
D III dan IV

2. Apakah yang dimaksudkan dengan alaf?

- A** Zaman kegelapan
B Jangka waktu 10 tahun
C Tempoh masa 100 tahun
D Jangka masa 1000 tahun

3. Gambar berikut menunjukkan sumber sejarah.



Apakah ciri-ciri sumber sejarah tersebut?

- I Bersifat asli
 - II Sumber primer
 - III Sumber sekunder
 - IV Tersebar kepada umum
- A** I dan II
B I dan IV
C II dan III
D III dan IV

4. Maklumat berikut berkaitan dengan penyelidikan dalam sejarah.

Kajian	Kaedah kajian
Perjanjian Pangkor	X

Apakah kaedah **X**?

- A** Lisan
B Sainifik
C Bertulis
D Arkeologi

5. Apakah kepentingan tafsiran dalam sejarah?

- A** Mendorong kita berfikiran terbuka
B Mengelakkan perbezaan pendapat
C Mengukuhkan persamaan ideologi
D Menggunakan sumber yang terhad

Bab 2 Zaman Air Batu

6. Apakah hidupan Zaman Jurasik yang berlaku pada 195 juta tahun dahulu?

- A Mamot
- B Kucing
- C Dipterus
- D Dinosaur


7. Senarai berikut merujuk kepada tahap Zaman Air Batu.

- Berlaku antara 2.5 juta – 10,000 tahun dahulu.
- Glasier utama berlaku sebanyak 11 kali.

Apakah tahap zaman tersebut?

- A Miosen
- B Pliosen
- C Holosen
- D Pleistosen

8. Gambar berikut menunjukkan hidupan Zaman Air Batu.



Apakah nama hidupan tersebut?

- A Dipterus
- B Trilobite
- C Diatryma
- D Stegosaurus

9. Apakah ciri-ciri Zaman Air Batu Akhir?

- I Paras air laut rendah
- II Suhu dunia terlalu sejuk
- III Sinaran matahari sangat terik
- IV Wujud kawasan laut yang luas

- A I dan II
- B I dan IV

- C II dan IV
- D III dan IV

10. Apakah kesan perubahan iklim kepada kehidupan manusia?

- I Kekal menetap
- II Tinggal di tanah tinggi
- III Berhijrah ke tempat baharu
- IV Menyesuaikan dengan aktiviti harian

- A I dan II
- B I dan IV

- C II dan III
- D III dan IV

Bab 3 Zaman Prasejarah

11. Zaman Batu Pertengahan merujuk kepada

- A Zaman Logam
- B Zaman Neolitik
- C Zaman Paleolitik
- D Zaman Mesolitik

12. Pilih pasangan yang betul.

	Zaman Prasejarah	Tempoh masa
A	Logam	2.5 – 8,000 SM
B	Mesolitik	12,000 – 4,000 SM
C	Paleolitik	10,000 – 2,000 SM
D	Neolitik	3,500 SM – 500 M

13. Gambar berikut menunjukkan lokasi Zaman Prasejarah di Britain.



Apakah lokasi Zaman Prasejarah tersebut?

- A Stonehenge
- B Catal Huyuk
- C Zhoukoudian
- D Shahr-i-Sokhta

14. Apakah kegiatan ekonomi manusia Zaman Logam?

- I Pertanian
 - II Penternakan
 - III Pelancongan
 - IV Perlombongan
- A I dan II
 - B I dan IV
 - C II dan III
 - D III dan IV

15. Gambar berikut menunjukkan kubur kepingan batu.



Di manakah lokasi penemuan tersebut?

- A Gua Niah, Sarawak
- B Pantai Timur, Sabah
- C Kuala Selinsing, Perak
- D Lembah Bernam, Selangor

Bab 4 Mengenal Tamadun

16. Jadual berikut menunjukkan perkataan tamadun dalam beberapa bahasa.

Perkataan	Bahasa
<i>Civitas</i>	X
<i>Hadharah</i>	Arab

Apakah **X**?

- A** Arab
B Melayu
C Yunani
D Inggeris

17. Gambar berikut menunjukkan tokoh Barat, Arnold J. Toynbee.



Apakah konsep tamadun mengikut pandangan tokoh tersebut?

- A** Pembangunan lahiriah
B Kehalusan tatasusila
C Kebudayaan yang luhur
D Pembentukan kepercayaan

18. Apakah ciri-ciri tamadun awal dunia?

- I Peluasan kuasa
 II Organisasi sosial
 III Sistem pemerintahan
 IV Pembentukan nilai murni
- A** I dan II
B I dan IV
C II dan III
D III dan IV

19. Gambar berikut menunjukkan bandar dalam tamadun awal dunia.



Apakah keistimewaan bandar tersebut?

- A** Dikelilingi kawasan pertanian
B Pelan susun atur yang tersusun
C Terdapat sekolah dan universiti
D Dilengkapi bekalan air dan elektrik

20. Berdasarkan organisasi sosial masyarakat Mesir Purba, golongan yang manakah berada dalam kelas kedua?

- I Petani
 II Hamba
 III Artisan
 IV Saudagar
- A** I dan II
B I dan IV
C II dan III
D III dan IV

Bab 5 Tamadun Awal Dunia

21. Pilih pasangan yang betul.

	Tamadun	Lokasi
A	Indus	Sungai Nil
B	Huang He	Sungai Kuning
C	Mesopotamia	Sungai Harappa
D	Mesir Purba	Sungai Euphrates

22. Siapakah Raja yang terkenal semasa zaman Kerajaan Baharu Mesir?

- A Ramses
- B Hatshepsut
- C Hammurabi
- D Raja Mennes

23. Apakah ciri-ciri bandar Harappa?

- I Terdapat pelabuhan
 - II Dipenuhi rumah ibadat
 - III Dikelilingi dinding bata
 - IV Terdapat benteng di dalam kota
- A I dan II
 - B I dan IV
 - C II dan III
 - D III dan IV

24. Gambar berikut menunjukkan penciptaan teknologi pembajakan.



Apakah tamadun yang boleh dikaitkan dengan kemajuan tersebut?

- A Indus
- B Huang He
- C Mesir Purba
- D Mesopotamia

25. Apakah hasil kesenian masyarakat tamadun Huang He?

- A Tembikar
- B Patung batu
- C Ukiran gelas
- D Lukisan dinding



Bab 6 Peningkatan Tamadun Yunani dan Rom

26. Apakah fungsi Agora dalam tamadun Yunani?
- Ibu kota
 - Pelabuhan
 - Pasar awam
 - Kawasan pertanian
27. Apakah yang ditekankan oleh Pericles untuk memantapkan sistem demokrasi dalam tamadun Yunani?
- Kuasa rakyat
 - Peluasan kuasa
 - Hak mutlak raja
 - Disiplin ketenteraan
28. Jadual berikut menunjukkan zaman perkembangan tamadun Rom.

Zaman	Tempoh
X	27 SM – 476 M

Apakah Zaman X?

- Zaman Gelap
 - Zaman Beraja
 - Zaman Republik
 - Zaman Empayar
29. Apakah sumbangan Marco Vitruvius kepada kerajaan Rom?
- Membina tembok pertahanan
 - Mengarang buku *On Architecture*
 - Memulakan pembinaan Colosseum
 - Membaik pulih kerosakan Akueduk
30. Gambar berikut menunjukkan seni bina akueduk.



Tokoh yang manakah bertanggungjawab membina binaan tersebut?

- Raja Vespian
- Marcus Agrippa
- Maharaja Hadrian
- Maharaja Caracalla

Bab 7 Peningkatan Tamadun India dan Rom

31. Apakah kerajaan yang menjadi kuasa yang kuat antara tahun 540 – 490 SM di India?
- A Nanda
 - B Gupta
 - C Maurya
 - D Magadha
32. Apakah peristiwa yang mengubah dasar pemerintahan Asoka?
- A Perang Kalinga
 - B Penyatuan India
 - C Hubungan dengan China
 - D Pengembangan agama Buddha
33. Gambar berikut menunjukkan Chandragupta Maurya.



- Apakah sumbangan tokoh tersebut terhadap tamadun India?
- A Membina bandar terancang
 - B Membentuk empayar yang luas
 - C Memajukan ekonomi dan sosial
 - D Mengembangkan agama Buddha
34. Apakah sumbangan Cai Lun kepada tamadun China?
- A Membuat kertas
 - B Menyatukan China
 - C Menggubal undang-undang
 - D Memperkenalkan sistem peperiksaan
35. Apakah matlamat sistem pendidikan dalam tamadun China?
- I Mengatasi buta huruf
 - II Memilih pegawai kerajaan
 - III Memupuk nilai moral dan etika
 - IV Melahirkan warganegara patriotik
- A I dan II
 - B I dan IV
 - C II dan III
 - D III dan IV

Bab 8 Tamadun Islam dan Sumbangannya

36. Mengapakah semangat assabiyah memberi kesan buruk jika diamalkan oleh masyarakat masa kini?
- A Menindas golongan miskin
 - B Menjejaskan ekonomi negara
 - C Memupuk semangat perkauman
 - D Menghapuskan tali persaudaraan
37. Apakah wahyu pertama yang diterima oleh Nabi Muhammad SAW?
- A Surah Iqra'
 - B Surah al-Alaq
 - C Surah Yassin
 - D Surah al-Mudassir
38. Apakah sumbangan tamadun Islam dalam bidang sosial?
- I Meluaskan empayar Islam
 - II Mengangkat kedudukan wanita
 - III Memajukan penyelidikan saintifik
 - IV Memperkenalkan sistem demokrasi
- A I dan II
 - B I dan IV
 - C II dan III
 - D III dan IV
39. Antara berikut, yang manakah merupakan tokoh perubatan Islam?
- A Ibn Sina
 - B Al- Biruni
 - C Al-Battani
 - D Ibn Battuta
40. Gambar berikut menunjukkan mihrab di dalam masjid.



Apakah fungsi mihrab?

- A Melaungkan azan
- B Pintu masuk utama
- C Penanda arah kiblat
- D Tempat imam berkhotbah

Bahagian B

Bab 2 Zaman Air Batu

1. Ilustrasi berikut menunjukkan Zaman Air Batu Akhir.



(a) Jelaskan ciri fizikal bumi pada Zaman Air Batu Akhir.

[2 markah]

(b) Apakah binatang dan tumbuhan yang hidup pada Zaman Air Batu Akhir?

- (i) _____
- (ii) _____
- (iii) _____
- (iv) _____

[4 markah]

(c) Pada pendapat anda, apakah pengajaran daripada pengetahuan tentang Zaman Air Batu?

[4 markah]

Bab 3 Zaman Prasejarah

2. Ilustrasi berikut menunjukkan manusia Zaman Paleolitik.



(a) Jelaskan tempat kediaman manusia Zaman Paleolitik.

[3 markah]

(b) Bagaimanakah manusia Zaman Paleolitik mencari makanan?

[3 markah]

(c) Apakah cabaran yang dihadapi oleh manusia Zaman Prasejarah?

[4 markah]

Bab 4 Mengenal Tamadun

3. Petikan berikut berkaitan dengan tamadun.

Tamadun merupakan kemajuan kebendaan sesebuah masyarakat. Dari perspektif semasa pula, perkataan tamadun selalunya merujuk kepada pencapaian yang tinggi dalam bidang sains dan teknologi.

Sumber: http://muhamatar.tripod.com/TAKRIF_TAMADUN.htm

(a) Jelaskan maksud tamadun dalam bahasa Inggeris.

[2 markah]

(b) Senaraikan **empat** ciri-ciri tamadun awal dunia.

- (i) _____
- (ii) _____
- (iii) _____
- (iv) _____

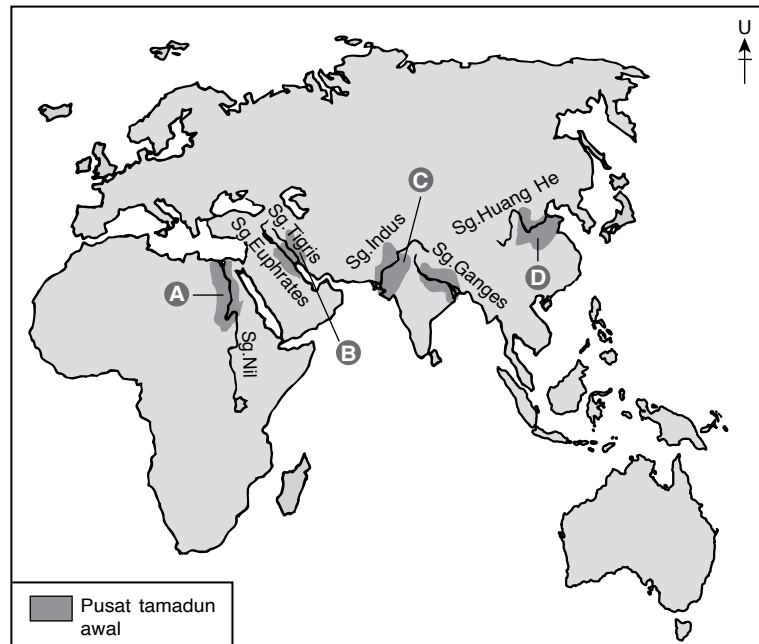
[4 markah]

(c) Cadangkan langkah mengelakkan diri kita daripada menjadi masyarakat tidak bertamadun.

[4 markah]

Bab 5 Tamadun Awal Dunia

4. Peta berikut menunjukkan lokasi tamadun awal dunia.



(a) Nyatakan tamadun awal berdasarkan abjad berikut.

- (i) A _____
- (ii) B _____
- (iii) C _____
- (iv) D _____

[4 markah]

(b) Senaraikan **tiga** faktor pembentukan tamadun awal di lembah sungai.

- (i) _____
- (ii) _____
- (iii) _____

[3 markah]

(c) Pada pendapat anda, bagaimanakah kita dapat meneruskan kegemilangan sesebuah tamadun?

[3 markah]

Bab 8 Tamadun Islam dan Sumbangannya

5. Petikan berikut tentang ketokohan Nabi Muhammad SAW.

Nabi Muhammad SAW merupakan seorang pemimpin agung umat Islam yang tiada bandingannya. Baginda memiliki ciri-ciri kepimpinan dalam semua aspek yang diperlukan, ditambah lagi dengan keperibadiannya yang dihiasi akhlak yang mulia dan terpuji.

Sumber: <https://melakakini.my/rasulullah-saw-utusan-teragung-yang-perlu-dicontohi/>

(a) Senaraikan ketokohan Nabi Muhammad SAW sebagai pemimpin.

- (i) _____
- (ii) _____
- (iii) _____
- (iv) _____

[4 markah]

(b) Buktikan ketokohan Nabi Muhammad SAW sebagai pemimpin tentera.

[3 markah]

(c) Apakah ciri-ciri kepimpinan Nabi Muhammad SAW yang wajar dicontohi oleh pemimpin masa kini?

- (i) _____
- (ii) _____
- (iii) _____

[3 markah]

Bahagian C**Bab 1 Mengenal Sejarah**

1. (a) Jelaskan tentang sumber berikut:

(i) Sumber primer

[3 markah]

(ii) Sumber sekunder

[3 markah]

(b) Maklumat berikut menunjukkan petikan ucapan bekas Perdana Menteri Malaysia.

Fahami sejarah negara, jangan ulangi kesilapan lampau – Tun Dr. Mahathir Mohamad

PUTRAJAYA: Fahami sejarah supaya kesilapan lampau tidak diulangi dalam memastikan keamanan negara terus terpelihara, yang membolehkan kemajuan dikecapi dan kekayaan negara diagihkan secara adil dan saksama, kata Tun Dr. Mahathir Mohamad.

Beliau berkata, jika tiga kaum utama di Malaysia bersama kaum-kaum di Sabah dan Sarawak dapat bertaut untuk bekerja, tinggal dan bermain bersama, negara akan lebih maju. "Selagi kita ingat sejarah kita dan liku-liku yang dijalani negara kita, maka negara kita akan terus aman."

Sumber: <https://www.bharian.com.my/berita/nasional/2019/01/519628>

Jelaskan kepentingan mempelajari sejarah.

[8 markah]

(c) Pada pendapat anda, apakah kesan jika subjek sejarah dipinggirkan dalam sistem pendidikan di negara kita?

[6 markah]

Bab 3 Zaman Prasejarah

2. (a) Jelaskan kehidupan manusia Zaman Logam berdasarkan ciri-ciri berikut:


(i) Kegiatan ekonomi

[3 markah]

(ii) Organisasi sosial

[3 markah]

(b) Berdasarkan gambar berikut, bandingkan peralatan manusia Zaman Prasejarah dengan masa kini.



[8 markah]

(c) Huraikan iktibar yang boleh diambil daripada Zaman Sejarah.

[6 markah]

Bab 5 Tamadun Awal Dunia

3. (a) Tamadun Mesir Purba terletak di kawasan lembah Sungai Nil. Mengapakah Mesir dikatakan Hadiah Sungai Nil? [6 markah]
- (b) Gambar berikut menunjukkan kegiatan ekonomi dalam tamadun awal.



Terangkan kegiatan ekonomi yang dijalankan dalam tamadun:

- (i) Tamadun Indus [4 markah]
- (ii) Tamadun Huang He [4 markah]
- (c) Kegiatan pertanian merupakan aktiviti utama dalam tamadun awal. Pada pendapat anda, apakah kepentingan sektor pertanian kepada negara? [6 markah]

Bab 6 Peningkatan Tamadun Yunani dan Rom

4. (a) Jelaskan keanggotaan badan pentadbiran di Athens seperti berikut:
- (i) Majlis [4 markah]
- (ii) Majistret [4 markah]
- (b) Gambar berikut menunjukkan kerajaan ketenteraan di Sparta.



Di Sparta, penekanan diberikan kepada disiplin ketenteraan. Jelaskan pernyataan tersebut.

- [6 markah]
- (c) Pada pendapat anda, bagaimanakah meningkatkan kekuatan sistem ketenteraan sesebuah negara? [6 markah]

Bab 7 Peningkatan Tamadun India dan China

5. (a) Maklumat berikut berkaitan dengan peluasan kuasa dalam tamadun India.

Kemunculan pelbagai kerajaan dalam tamadun India menyebabkan wujudnya persaingan antara kerajaan untuk memperluas kuasa masing-masing. Pada permulaannya, peluasan kuasa dilakukan secara fizikal namun berubah kepada peluasan secara keagamaan demi menjamin kesejahteraan hidup manusia.

Terangkan bentuk peluasan kuasa semasa zaman:

- (i) Dinasti Nanda [3 markah]
 (ii) Dinasti Maurya [3 markah]
- (b) Bagaimanakah peluasan kuasa dilakukan semasa zaman Asoka? [8 markah]
- (c) Peperangan membawa kehancuran tamadun dan penderitaan kepada manusia. Cadangkan langkah-langkah mengelakkan berlakunya peperangan. [6 markah]

Bab 8 Tamadun Islam dan Sumbangannya

6. (a) Terangkan sistem politik masyarakat Arab Jahiliah berikut:

- (i) Kaum Badwi [3 markah]
 (ii) Kaum Hadhari [3 markah]
- (b) Kehidupan masyarakat Arab Jahiliah dapat dilihat dari dua sudut, iaitu agama dan kepercayaan serta adat dan kehidupan seharian. Jelaskan agama dan kepercayaan yang diamalkan oleh masyarakat Arab Jahiliah. [8 markah]
- (c) Maklumat berikut menunjukkan nilai hidup masyarakat Arab Jahiliah.

Masyarakat Arab Jahiliah hidup dalam kemaksiatan seperti berjudi, berzina, meminum arak dan bersifat angkuh.

Cadangkan langkah untuk membasmi amalan jahiliah dalam kalangan masyarakat hari ini.

[6 markah]