

# KERTAS MODEL SPM

Skor


/100

## Kertas 1

1 jam 15 minit

Kertas peperiksaan ini mengandungi 40 soalan. Jawab semua soalan. Tiap-tiap soalan diikuti oleh empat pilihan jawapan, iaitu A, B, C dan D. Bagi setiap soalan, pilih satu jawapan sahaja.

1. Gambar 1 menunjukkan sejenis barang dalam ekonomi.



Gambar 1

Apakah tujuan kerajaan menyediakan barang tersebut?

- A Menurunkan kadar pengangguran
  - B Meningkatkan pendapatan negara
  - C Memaksimumkan kebajikan rakyat
  - D Meningkatkan kadar pertukaran asing
2. Maklumat di bawah menunjukkan tiga jenis tenaga buruh.

- Operator pengeluar
- Penyelia kilang kayu
- Pegawai keselamatan kilang

Apakah ganjaran yang diterima oleh sumber ekonomi di atas?

- A Upah
  - B Sewa
  - C Faedah
  - D Untung
3. Maklumat di bawah berkaitan dengan masalah asas ekonomi.

Pengusaha-pengusaha keropok ikan telah meningkatkan pengeluaran ketika ketibaan pelancong asing di Malaysia pada bulan Mei hingga Julai.

Apakah masalah asas ekonomi yang belum diselesaikan dalam situasi tersebut?

- I Apakah yang hendak dikeluarkan
  - II Berapakah yang hendak dikeluarkan
  - III Bagaimanakah hendak dikeluarkan
  - IV Untuk siapakah dikeluarkan
- A I dan II
  - B I dan IV
  - C II dan III
  - D III dan IV

4. Antara yang berikut, yang manakah **benar** tentang keluk kemungkinan pengeluaran?

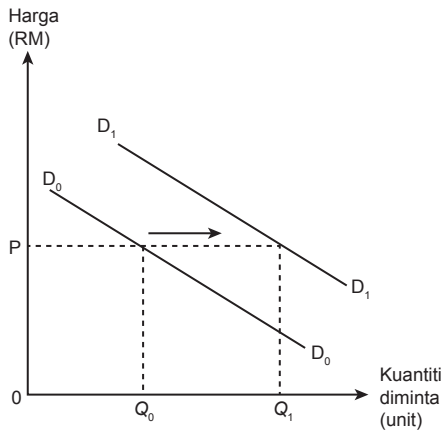
- A Had maksimum pengeluaran dua jenis barang yang boleh dikeluarkan oleh sesebuah negara
- B Had maksimum pengeluaran dua jenis barang yang boleh dikeluarkan oleh sesebuah firma
- C Had maksimum pengeluaran pelbagai jenis barang yang boleh dikeluarkan oleh sesebuah negara
- D Had minimum pengeluaran dua jenis barang yang boleh dikeluarkan oleh sesebuah negara

5. Antara yang berikut, yang manakah ciri sistem ekonomi pasaran bebas?

- I Pilihan pengguna terhad
  - II Pengguna dan pengeluar bebas memiliki sumber ekonomi
  - III Harga ditentukan melalui mekanisme harga
  - IV Sumber ekonomi dimiliki oleh kerajaan
- A I dan II
  - B I dan IV
  - C II dan III
  - D III dan IV



6. Rajah 1 menunjukkan keluk permintaan terhadap suatu barang.



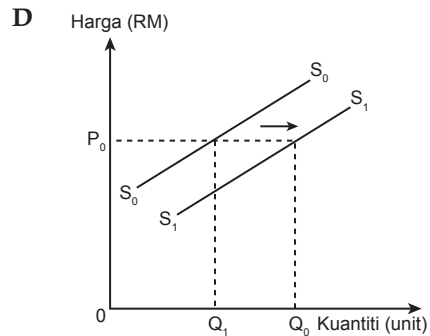
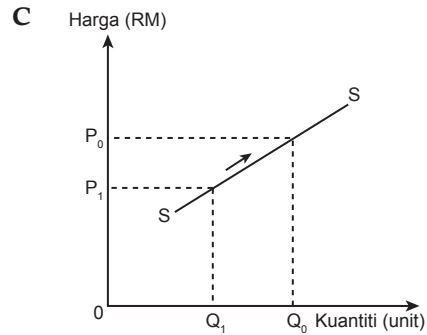
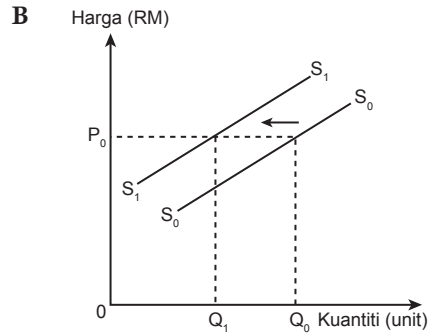
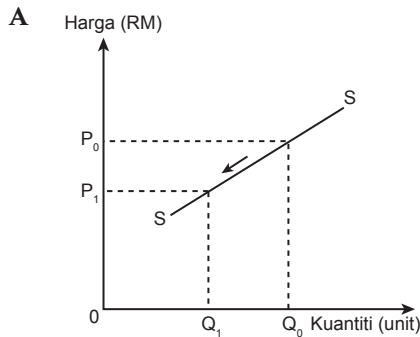
Rajah 1

Pernyataan yang manakah menunjukkan perubahan kuantiti yang diminta dari  $D_0D_0$  ke  $D_1D_1$ ?

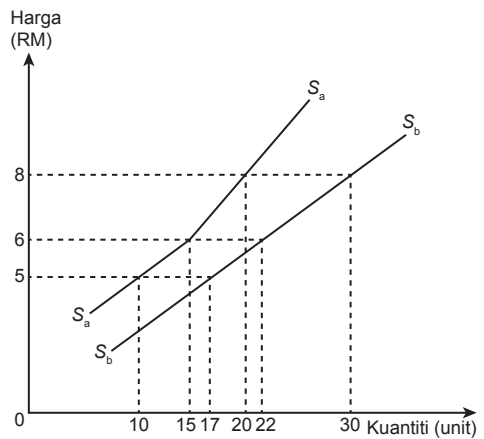
- A Harga barang itu dijangka turun pada masa depan
  - B Kadar cukai pendapatan meningkat
  - C Harga barang pengganti turun
  - D Pendapatan bersih pengguna meningkat
7. Pernyataan manakah yang menyebabkan permintaan terhadap getah asli tempatan meningkat?
- A Cuaca bertambah baik
  - B Pemberian subsidi bertambah
  - C Harga getah tiruan meningkat
  - D Cukai import getah asli meningkat
8. Maklumat berikut berkaitan dengan satu penentu penawaran barang Y.

Harga barang Y meningkat

Rajah yang manakah menunjukkan kesan perubahan harga kepada penawaran barang tersebut?



9. Rajah 2 menunjukkan keluk penawaran Firma A ( $S_a$ ) dan Firma B ( $S_b$ ) bagi suatu barang.



Rajah 2

## Kertas 2

2 jam 15 minit

*Kertas peperiksaan ini mengandungi dua bahagian: Bahagian A dan Bahagian B.*

### Bahagian A

[60 markah]

*Jawab semua soalan di bahagian ini.*

1. (a) Terangkan sumber ekonomi yang diperlukan untuk membina rumah kos rendah.

---

---

---

---

---

---

---

---

---

---

---

---

---

---

---

---

---

---

---

---

---

---

---

---

[4 markah]

- (b) Maklumat berikut berkaitan dengan sistem ekonomi.

Sistem ekonomi campuran lebih baik daripada sistem ekonomi pasaran bebas.

Jelaskan pernyataan di atas.

---

---

---

---

---

---

---

---

---

---

---

---

---

---

---

---

---

---

---

---

---

---

---

---

[4 markah]

**Bahagian B**

[40 markah]

Jawab mana-mana **dua** soalan daripada bahagian ini.

4. Maklumat berikut berkaitan dengan bantuan kerajaan kepada golongan Orang Kurang Upaya (OKU).

**Elaun Pekerja Cacat (EPOKU)**

Kenaikan kadar Elaun Pekerja Cacat (EPC) daripada RM400 kepada RM450 sebulan sebagai insentif untuk menggalakkan OKU bekerja, hidup berdikari dan menjadi ahli masyarakat yang produktif.

#Kewangan #Miskin #OKU #JKM #2022

*Sumber:* <https://budget.mof.gov.my/manfaat/rakyat-kewangan.html>

- (a) Jelaskan pendapatan yang diterima oleh golongan tersebut. [4 markah]
- (b) Mengapakah kerajaan bertindak sedemikian? Kemukakan pendapat anda. [9 markah]
- (c) Jelaskan kesan peningkatan elaun OKU terhadap pasaran barang keperluan. [7 markah]
5. Petikan berikut berkaitan dengan kenaikan harga barang di Malaysia.

Kenaikan harga barangan keperluan sejak akhir-akhir ini memberi kesan yang besar kepada kehidupan rakyat Malaysia secara keseluruhannya. Ini ditambah pula dengan keadaan pandemik COVID-19 yang mempengaruhi pendapatan per kapita keluarga berikutan ada yang kehilangan pekerjaan atau tidak boleh meneruskan perniagaan.

- (a) Jelaskan keadaan ekonomi semasa di atas. [4 markah]
- (b) Bagaimanakah anda mengatasi masalah kenaikan harga dalam kehidupan harian? Jelaskan. [9 markah]
- (c) Jelaskan kesan peningkatan harga barang tersebut terhadap pasaran gula. [7 markah]