

2023
Final Term
Progressive Assessment

数学

Maths

K1

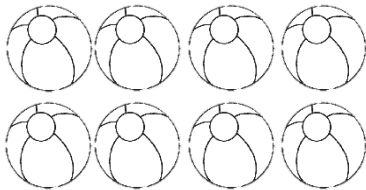
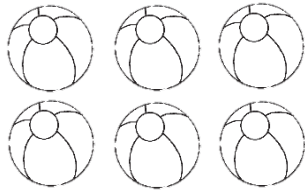
姓名 Name : _____



班级 Class : _____



分数 Marks : _____/100



A. 数一数每组的物品。这两组的物品数量是相等的吗？如果是相等的，在空格
里写上 '=' 符号；然后，把有比较少物品的组合圈起来。[10分]



Count the things in each group. Are the two groups equal in number? If 'Yes', write the word
'equal' in the box. If 'No', circle the group that has less things. [10 marks]

| | | |
|---|--|---|
|  | <input data-bbox="678 504 906 631" type="text"/> |  |
|---|--|---|

| | | |
|---|--|--|
|  | <input data-bbox="683 817 912 945" type="text"/> |  |
|---|--|--|

| | | |
|---|--|--|
|  | <input data-bbox="686 1131 917 1258" type="text"/> |  |
|---|--|--|

| | | |
|---|--|--|
|  | <input data-bbox="678 1406 909 1534" type="text"/> |  |
|---|--|--|

| | | |
|---|--|--|
|  | <input data-bbox="667 1706 898 1834" type="text"/> |  |
|---|--|--|

B. 把数字从最小到最大正确地排列。[3分]

Write the numbers in the correct order from smallest to biggest. [3 marks]

| | | | | | | |
|---|---|---|---|--|--|--|
| 2 | 3 | 1 | ➔ | | | |
|---|---|---|---|--|--|--|

| | | | | | | |
|---|---|---|---|--|--|--|
| 7 | 5 | 6 | ➔ | | | |
|---|---|---|---|--|--|--|

| | | | | | | |
|---|---|----|---|--|--|--|
| 9 | 8 | 10 | ➔ | | | |
|---|---|----|---|--|--|--|

C. 把数字从最大到最小正确地排列。[3分]

Write the numbers in the correct order from biggest to smallest. [3 marks]

| | | | | | | |
|---|---|---|---|--|--|--|
| 7 | 3 | 5 | ➔ | | | |
|---|---|---|---|--|--|--|

| | | | | | | |
|---|---|---|---|--|--|--|
| 2 | 8 | 4 | ➔ | | | |
|---|---|---|---|--|--|--|

| | | | | | | |
|---|---|----|---|--|--|--|
| 6 | 9 | 10 | ➔ | | | |
|---|---|----|---|--|--|--|

D. 什么数字是在8之前、在5之后？写一写。[4分]

What numbers come before 8 and after 5? Write. [4 marks]

| |
|--|
| |
|--|